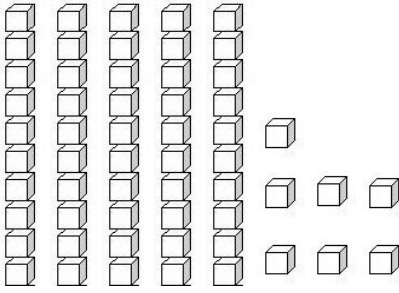
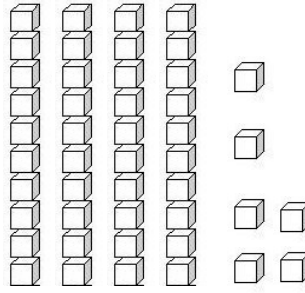
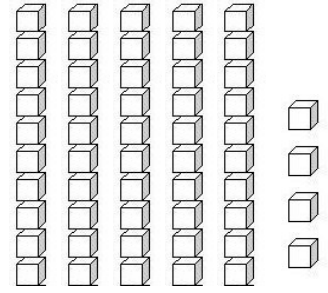


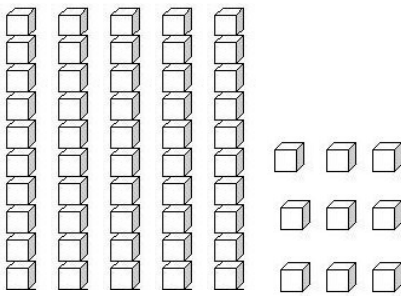
La famille des 50

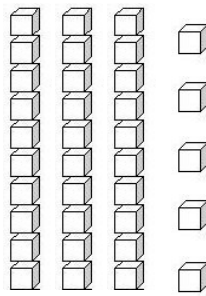
1. Ecris le nombre représenté.

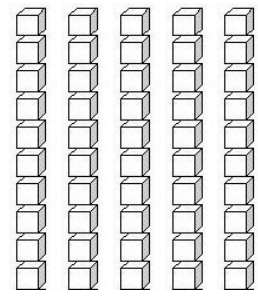












2. Ecris en chiffres les nombres.

cinquante et un :

cinquante-six :

trente-sept :

quarante-neuf :

cinquante-huit :

quarante-trois :

cinquante-quatre :

cinquante :

3. Ecris

50

cinquante

Date :

Prénom :

La famille des 50

1. Dictée de nombres.

--	--	--	--	--	--	--	--	--	--

2. Complète le tableau.

Nombre précédent	Nombre	Nombre suivant
	53	
	55	
	50	
	58	
	54	

3. Complète avec < ; > ; = .

51..... 15

5 50

55 55

54..... 42

58 58

36 53

53..... 35

49 50

52 44

4. Range du plus petit au plus grand.

50 40 12 58 47 53 36 57 22 1

--	--	--	--	--	--	--	--	--	--	--

5. Complète les bandes numériques.

48	49
----	----	-------	-------	-------	-------	-------	-------

59	58
----	----	-------	-------	-------	-------	-------	-------

Date :

Prénom :

La famille des 50

1. Ecris en lettres.

53 =

56 =

51 =

58 =

57 =

2. Range du plus grand au plus petit.

53 8 29 54 41 37 59 44 56 19

--	--	--	--	--	--	--	--	--	--	--

3. Calcule.

$10 + 10 + 10 + 10 + 10 = \dots\dots\dots$

$10 + 10 + 10 + 10 + 10 + 3 = \dots\dots\dots$

$10 + 10 + 10 + 10 + 10 + 7 = \dots\dots\dots$

$10 + 10 + 10 + 10 + 6 = \dots\dots\dots$

$10 + 10 + 10 + 10 + 10 + 5 = \dots\dots\dots$

$40 + 10 + 2 = \dots\dots\dots$

$20 + 20 + 10 = \dots\dots\dots$

$40 + 10 + 8 = \dots\dots\dots$

$20 + 20 + 10 + 1 = \dots\dots\dots$

$40 + 10 + 9 = \dots\dots\dots$

$20 + 20 + 1 = \dots\dots\dots$

$30 + 20 + 6 = \dots\dots\dots$

$30 + 20 + 3 = \dots\dots\dots$

$30 + 10 + 4 = \dots\dots\dots$

$30 + 7 = \dots\dots\dots$

Date :

Prénom :