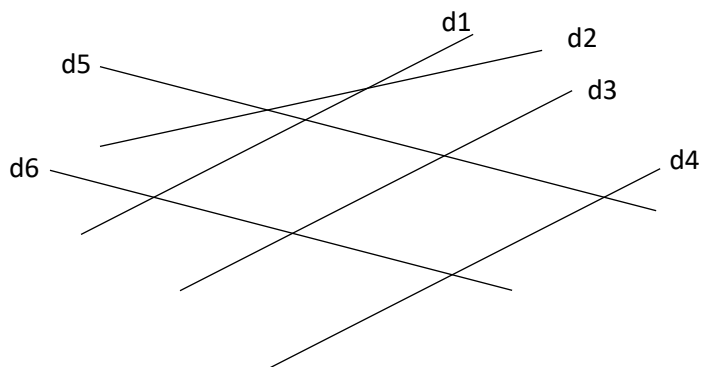


**Exercice n°1 :**

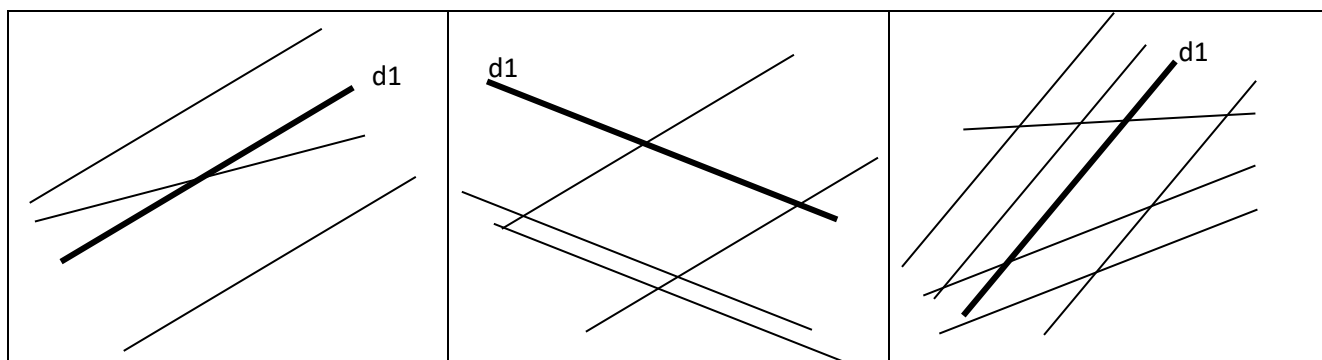
Observe bien les droites et coche si c'est vrai ou faux :



	vrai	faux
Les droites d1 et d2 sont parallèles.	<input type="checkbox"/>	<input type="checkbox"/>
Les droites d4 et d6 sont parallèles.	<input type="checkbox"/>	<input type="checkbox"/>
Il y a 2 droites parallèles à d3.	<input type="checkbox"/>	<input type="checkbox"/>
Aucune droite n'est parallèle à d5.	<input type="checkbox"/>	<input type="checkbox"/>
Les droites d4 et d3 sont parallèles.	<input type="checkbox"/>	<input type="checkbox"/>

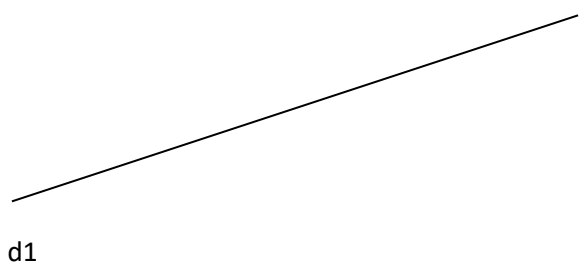
**Exercice n°2 :**

Repasse les droites parallèles à d1.

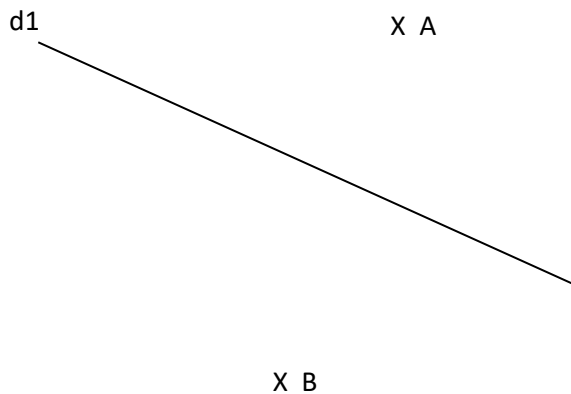


**Exercice n°3 :**

Trace la droite d2 parallèle à d1.

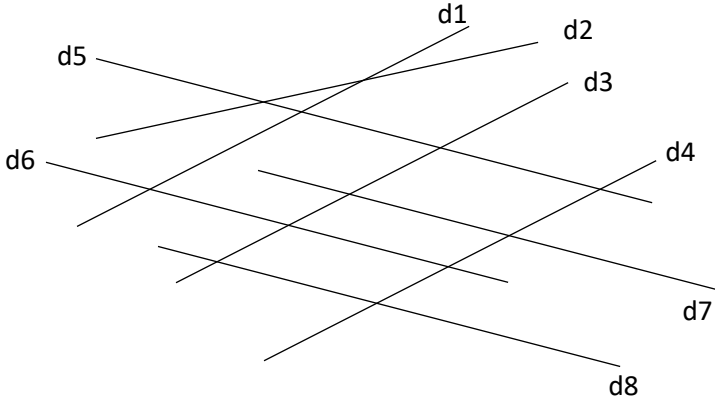


Trace les droites parallèles à d1 passant par A et par B.



**Exercice n°1 :**

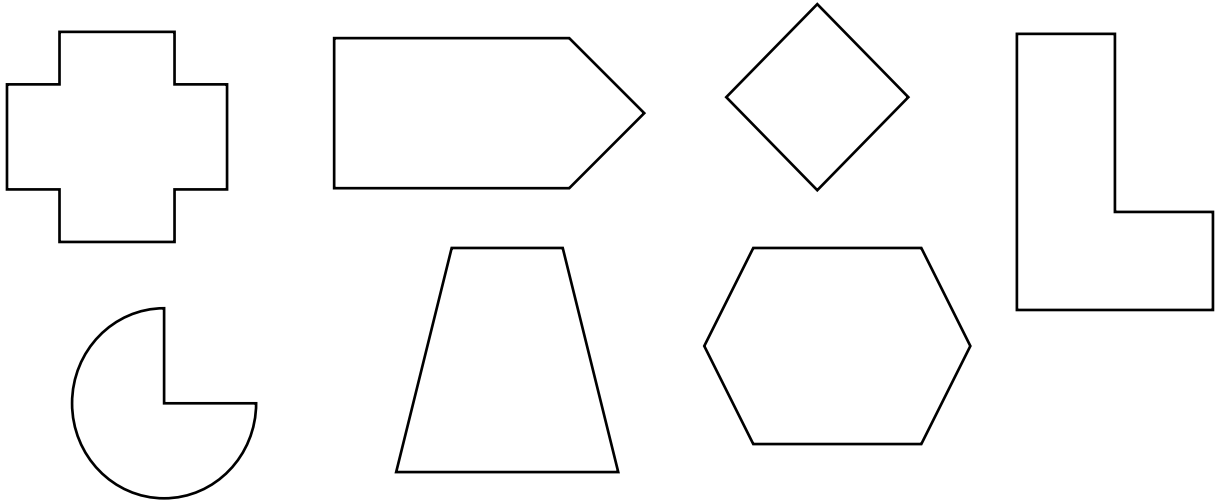
Observe bien les droites et coche si c'est vrai ou faux :



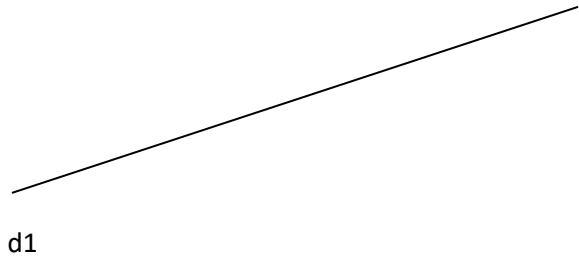
	vrai	faux
Les droites d1 et d2 sont parallèles.	<input type="checkbox"/>	<input type="checkbox"/>
Les droites d4 et d6 sont parallèles.	<input type="checkbox"/>	<input type="checkbox"/>
Il y a 2 droites parallèles à d3.	<input type="checkbox"/>	<input type="checkbox"/>
Aucune droite n'est parallèle à d5.	<input type="checkbox"/>	<input type="checkbox"/>
Les droites d4 et d3 sont parallèles.	<input type="checkbox"/>	<input type="checkbox"/>
Les droites d5 et d7 ne sont pas parallèles.	<input type="checkbox"/>	<input type="checkbox"/>
Les droites d7 et d8 sont parallèles.	<input type="checkbox"/>	<input type="checkbox"/>

**Exercice n°2 :**

Repasse d'une même couleur les droites parallèles entre elles.

**Exercice n°3 :**

Trace la droite d2, d3 et d4 parallèles à d1.



Trace les droites parallèles à d1 passant par A, par B, par C et par D.

